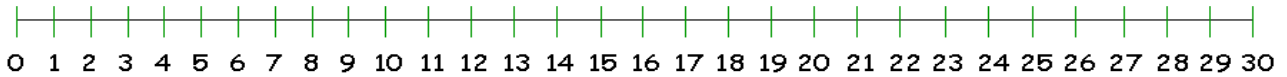


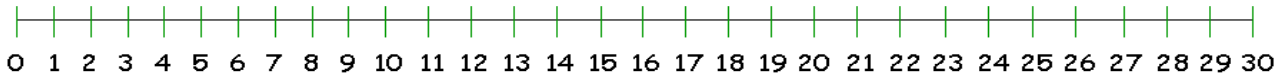
RISOLVI CON LA LINEA DEI NUMERI E CON L'OPERAZIONE

1) Giulio ha 9 figurine, Elisabetta 5 e Martina 2. **Quante sono tutte le figurine?**



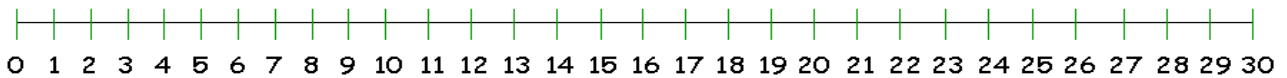
**CALCOLO:** .....

2) La maestra Lucia ha 15 schede. Quando arriva la maestra Giorgia gliene dà altre 7. **Quante schede potrà distribuire agli alunni la maestra Lucia?**



**CALCOLO:** .....

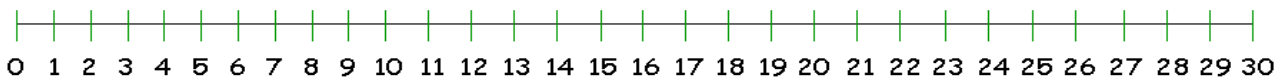
3) In classe ci sono 7 cartelloni, la maestra ne attacca 3, il giorno dopo ne attacca 5. **Quanti sono adesso i cartelloni?**



**CALCOLO:** .....

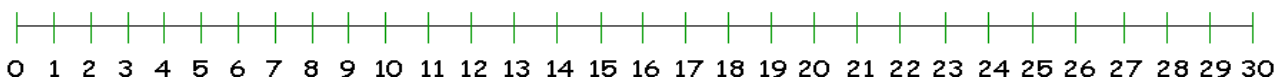
RISOLVI CON LA LINEA DEI NUMERI E CON L'OPERAZIONE

1) Giulio ha 9 figurine, Elisabetta 5 e Martina 2. **Quante sono tutte le figurine?**



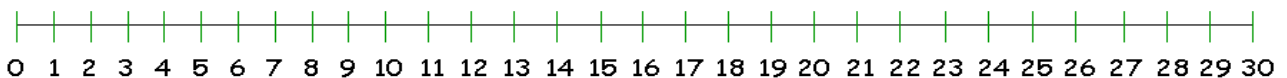
**CALCOLO:** .....

2) La maestra Lucia ha 15 schede. Quando arriva la maestra Giorgia gliene dà altre 7. **Quante schede potrà distribuire agli alunni la maestra Lucia?**



**CALCOLO:** .....

3) In classe ci sono 7 cartelloni, la maestra ne attacca 3, il giorno dopo ne attacca 5. **Quanti sono adesso i cartelloni?**



**CALCOLO:** .....